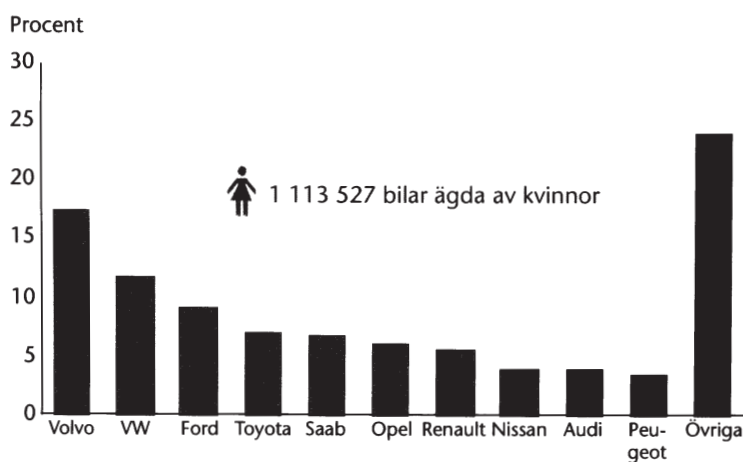


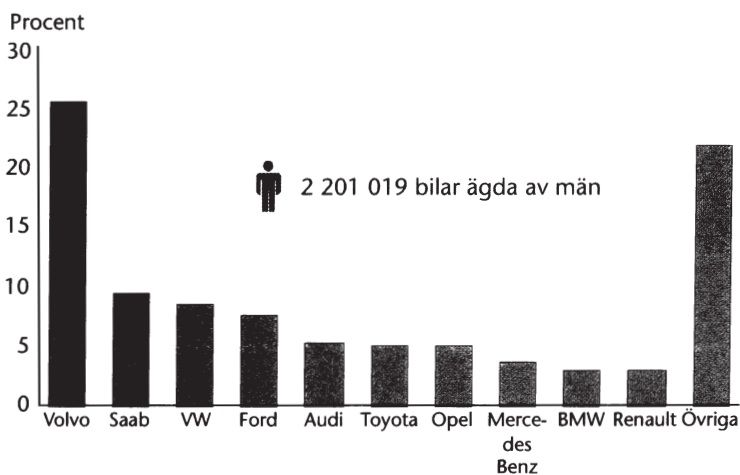
Bilnehav bland kvinnor och män i Sverige



Utvecklingen 1972–2004 av antalet privata personbilar som ägdes av kvinnor respektive män. Index 100 motsvarar antalet år 1972.



Antalet privata personbilar ägda av kvinnor år 2004 procentuellt fördelat på de tio vanligaste bilmärkena samt övriga.



Antalet privata personbilar ägda av män år 2004 procentuellt fördelat på de tio vanligaste bilmärkena samt övriga.

Uppgifter

29. Hur stor andel av personbilarna 2004 ägdes av kvinnor?

- A 1/5
- B 1/4
- C 1/3
- D 1/2

30. Vilka bilmärken hörde 2004 till de tio vanligaste bland bilar ägda av kvinnor men inte bland bilar ägda av män?

- A Opel och Renault
- B Opel och Nissan
- C Renault och Peugeot
- D Nissan och Peugeot

31. Hur många personbilar ägdes av kvinnor 1972?

- A 450 000
- B 650 000
- C 1 000 000
- D 2 200 000

Skadade vid fysisk aktivitet

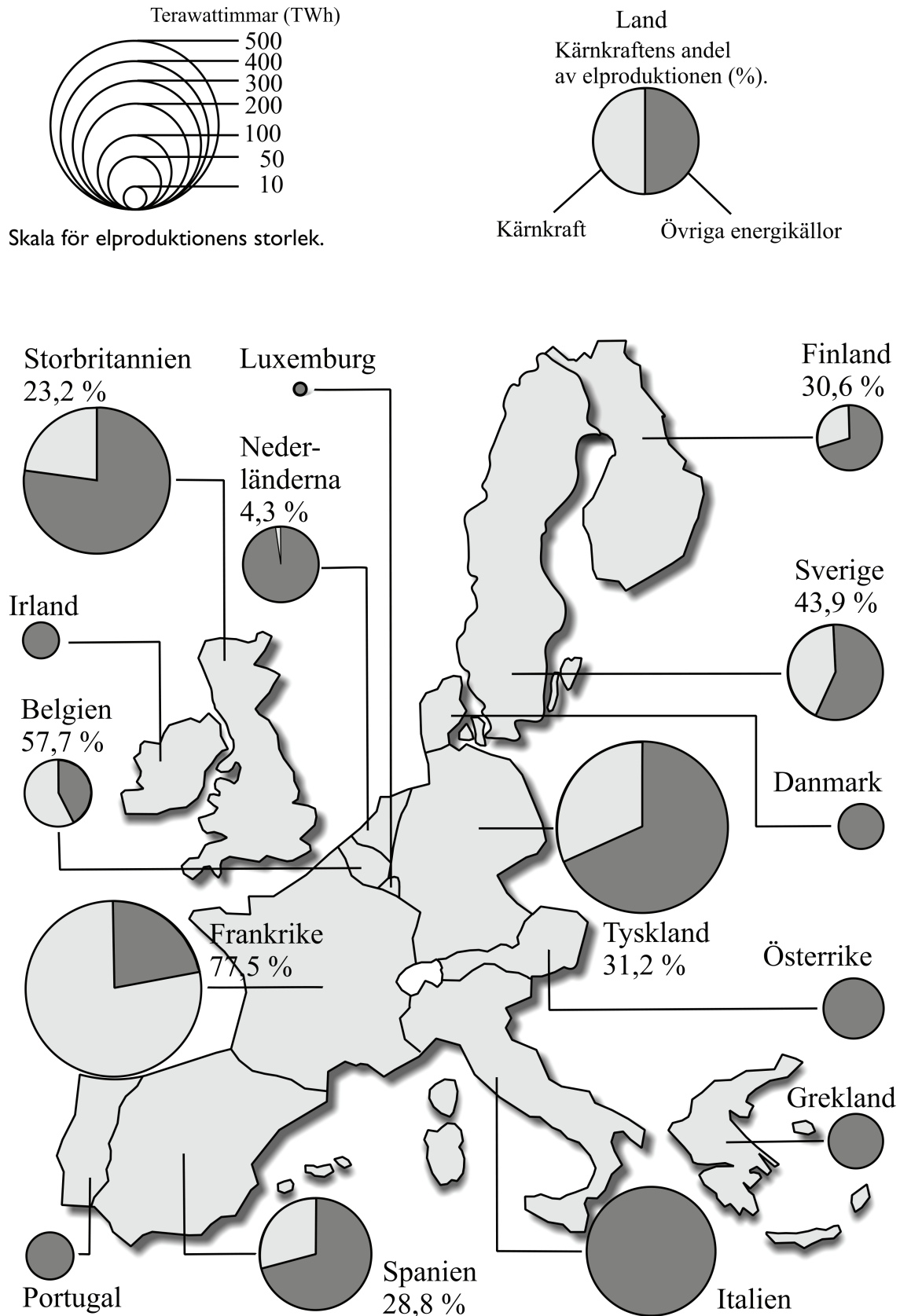
Det skattade antalet män och kvinnor som skadade sig vid fysisk aktivitet, i genomsnitt per år under perioden 2005–2007. Därutöver redovisas andelen av de skadade som vårdades i slutenvård samt det skattade antalet vårddygn sammanlagt för dessa personer.

FYSISK AKTIVITET	SKATTAT ANTAL SKADADE		ANDEL SLUTENVÅRDADE I PROCENT		SKATTAT ANTAL VÅRDDYGN
	MÄN	KVINNOR	MÄN	KVINNOR	MÄN OCH KVINNOR
Gå och promenera	17 200	26 800	14	15	48 000
Cykla	17 000	11 000	15	15	18 000
Sport och idrott	73 000	39 000	7	8	24 000
Därav:					
Fotboll	24 000	10 000	5	5	4 200
Ishockey	8 900	300	9	13	1 500
Ridsport	500	8 700	25	18	8 000
Utförsåkning	6 200	3 200	11	8	3 500
Innebandy	5 300	2 100	4	4	900
Motorsport	6 000	300	14	12	3 000
Handboll	2 500	2 700	2	3	400
Gymnastik	1 700	2 000	8	5	500
Löpning	1 400	1 200	2	2	100
Lek	36 000	26 000	9	9	15 000
Gör det själv	23 000	4 000	8	10	11 000
Trädgårdsarbete	3 500	2 500	10	8	3 500
Jaga, fiska, plocka bär m.m.	2 500	1 000	10	9	100
Totalt	172 200	110 300			121 500

Uppgifter

32. Studera andelarna slutenvårdade kvinnor. **Hur vanligt var det med slutenvård för den aktivitet där andelen var som störst jämfört med aktiviteten där andelen var som minst?**
- A 6 gånger så vanligt
 - B 9 gånger så vanligt
 - C 12 gånger så vanligt
 - D 15 gånger så vanligt
33. **Hur stort var antalet vårddygn per skadad vid aktiviteten gå och promenera?**
- A 0,9
 - B 1,1
 - C 2,7
 - D 7,5
34. Studera antalet skadade och andelen slutenvårdade på grund av gör det själv-aktiviteter. **Hur många slutenvårdades per år för dessa skador?**
- A 1 100
 - B 1 800
 - C 2 200
 - D 4 800
35. **Hur stor andel av männen som skadades vid sport och idrott skadades i samband med fotboll?**
- A 1/7
 - B 1/5
 - C 1/4
 - D 1/3

Elproduktion i Europa



Total elproduktion i terawattimmar (TWh) i EU:s 15 medlemsländer år 2001 samt kärnkraftens andel av elproduktionen. 1 TWh = 1 000 000 000 kilowattimmar.

Uppgifter

36. Vilket land hade en elproduktion som översteg 100 TWh och utslutande kom från andra energikällor än kärnkraft?

- A Grekland
- B Italien
- C Nederländerna
- D Österrike

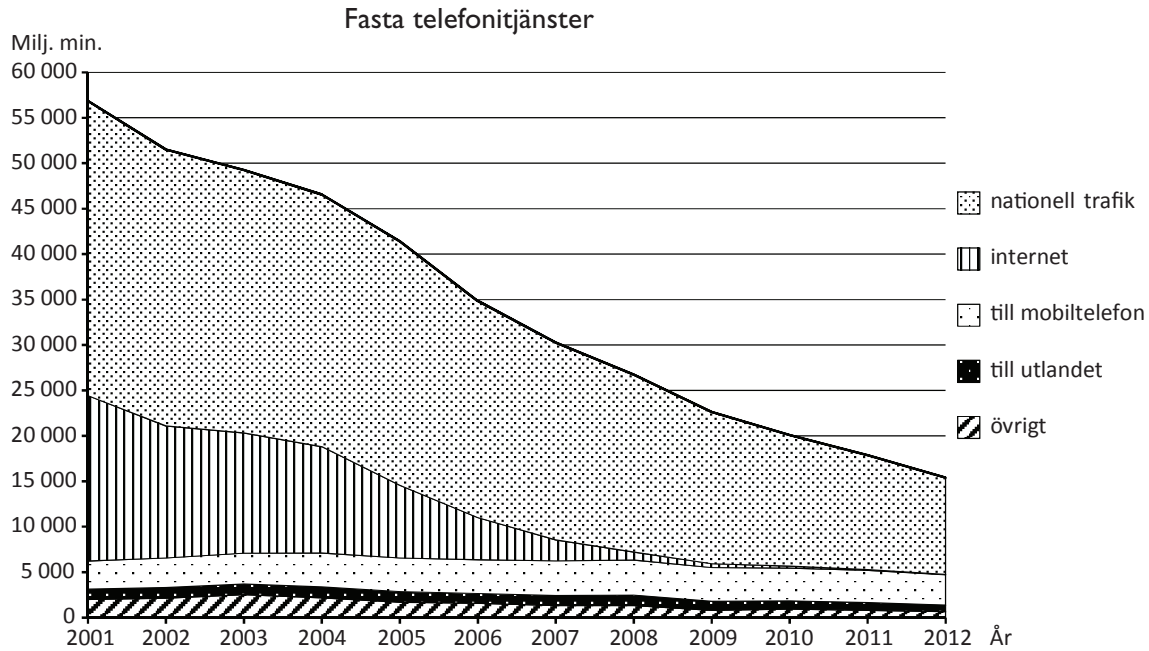
37. Hur mycket större var elproduktionen i Storbritannien än i Sverige?

- A 50 TWh
- B 100 TWh
- C 200 TWh
- D 350 TWh

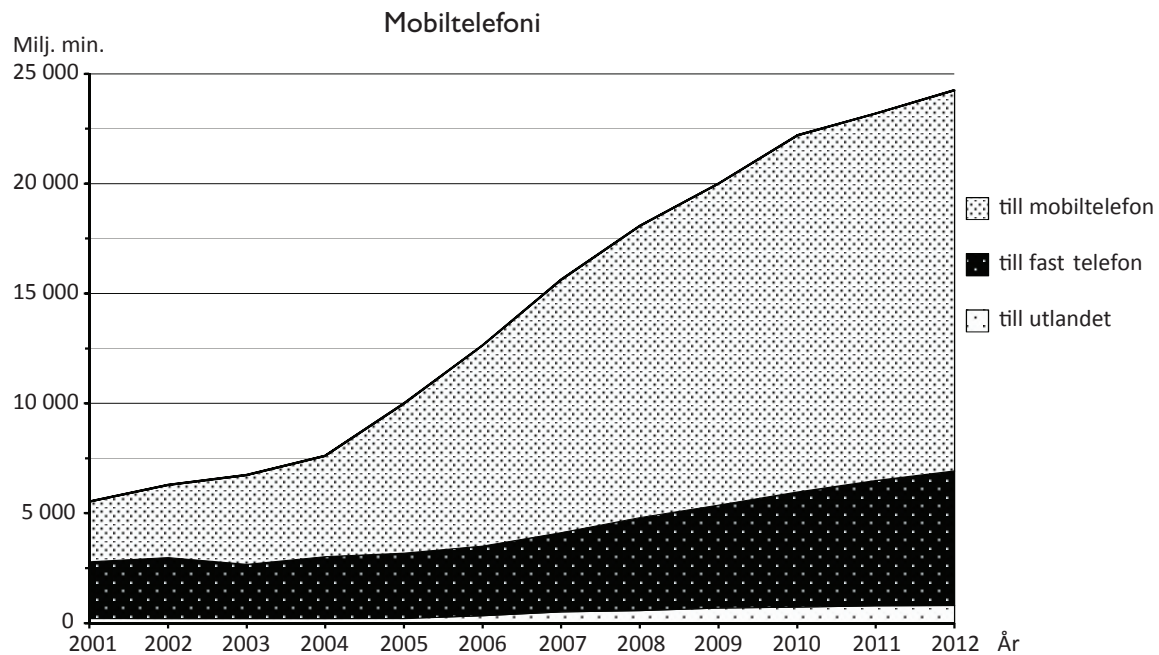
38. Hur många av de redovisade länderna hade en elproduktion som endast kom från övriga energikällor?

- A 4
- B 5
- C 7
- D 8

Fast och mobil telekommunikation i Sverige



Det totala antalet trafikminuter från fasta telefonitjänster uppdelat efter typ av tjänst perioden 2001–2012. Miljoner minuter.



Det totala antalet trafikminuter från mobiltelefoner uppdelat efter typ av samtal perioden 2001–2012. Miljoner minuter.

Uppgifter

39. Vilken typ av fast telefonitjänst var den enda där antalet trafikminuter inte hade minskat 2012 jämfört med 2001?

- A Nationell trafik
- B Internet
- C Till mobiltelefon
- D Övrigt

40. Hur stor andel av trafikminuterna från mobiltelefoner 2011 utgjordes av samtal till fast telefon?

- A En femtedel
- B En fjärdedel
- C En tredjedel
- D Två femtedelar